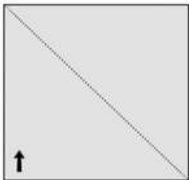




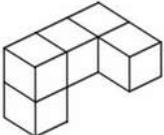




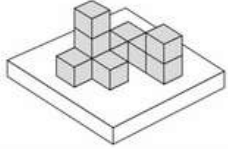
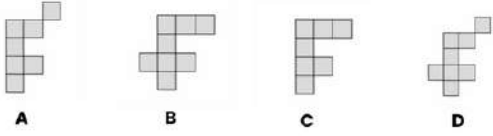

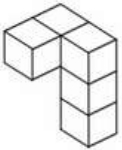
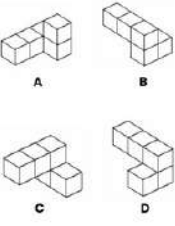
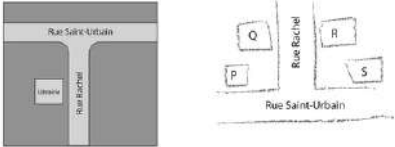
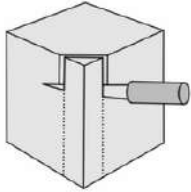

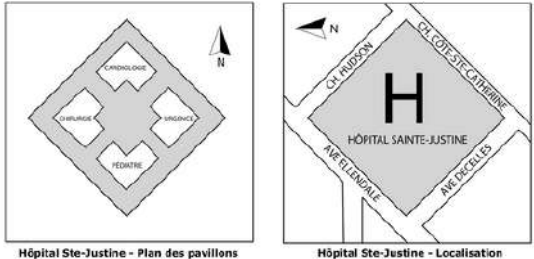
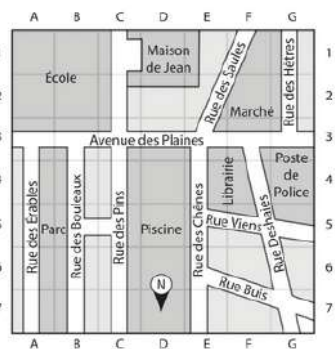


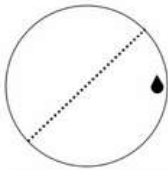
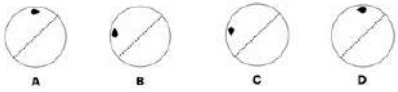
Entraînement à l'atelier "Vision Spatiale" du concours vétérinaire postbac.

Réponses du QUIZ

Numéro	Question	Bonne réponse
1	<p>L'illustration ci-dessous montre une feuille papier carée sur laquelle on a dessiné une ligne diagonale pointillée et une flèche.</p>  <p>Laquelle des illustrations ci-dessous montre l'image miroir de la flèche par rapport à la ligne pointillée ?</p> <div style="display: flex; justify-content: space-around; align-items: flex-start;"> <div style="text-align: center;">  A </div> <div style="text-align: center;">  B </div> </div> <div style="display: flex; justify-content: space-around; align-items: flex-start; margin-top: 10px;"> <div style="text-align: center;">  C </div> <div style="text-align: center;">  D </div> </div>	B
2	<p>L'illustration ci-dessous montre un modèle fait d'un assemblage de petits cubes.</p>  <p>Lequel des modèles ci-dessous est identique au modèle ci-dessus ?</p> <div style="display: flex; justify-content: space-around; align-items: flex-start;"> <div style="text-align: center;">  A </div> <div style="text-align: center;">  B </div> </div> <div style="display: flex; justify-content: space-around; align-items: flex-start; margin-top: 10px;"> <div style="text-align: center;">  C </div> <div style="text-align: center;">  D </div> </div>	C

Numéro	Question	Bonne réponse
3	<p>L'illustration ci-dessous montre un modèle fait d'un assemblage de petits cubes.</p>  <p>Laquelle des illustrations ci-dessous représente ce modèle vu de dessus ?</p> 	C
4	<p>Regarde bien le panneau de traverse de piéton ci-dessous.</p>  <p>Combien de lignes de symétrie cette image possède-t-elle ?</p>	zéro
5	<p>L'illustration ci-dessous montre un modèle fait d'un assemblage de petits cubes.</p>  <p>Lequel des modèles ci-dessous est identique au modèle ci-dessus ?</p> 	B
6	<p>Cette carte montre la localisation d'une librairie sur la rue Rachel.</p>  <p>Nabila a fait un dessin des rues, comme ci-dessus. Quelle lettre indique la localisation de la librairie sur le dessin de Nabila ?</p>	R

Numéro	Question	Bonne réponse
7	<p>Un cube de pâte à modeler est tranché le long d'un de ses bords, comme ci-dessous.</p>  <p>Quelle illustration ci-dessous représente la forme du bord du cube de pâte à modeler une fois la coupe terminée ?</p> 	D
8	<p>Voici deux plans de l'Hôpital Ste-Justine, avec l'indication de la direction Nord sur chacun ?</p>  <p>Quel pavillon est situé au coin des avenues Ellendale et Decelles ?</p>	Chirurgie
9	<p>Jean sort de chez lui, à l'intersection 1D sur la carte ci-dessous. Il marche vers le Nord et prend la première rue à sa gauche, puis la seconde rue à sa droite.</p>  <p>Sur quelle rue Jean se trouve-t-il après son trajet ?</p>	Rue Deshaies

Numéro	Question	Bonne réponse
10	<p>L'illustration ci-dessous montre une feuille papier ronde sur laquelle on a dessiné une ligne diagonale pointillée et une goutte d'eau.</p>  <p>Laquelle des illustrations ci-dessous montre une image miroir de la goutte d'eau par rapport à la ligne pointillée ?</p> 	A

ENVIE D'INTÉGRER UNE ÉCOLE VÉTÉRINAIRE POSTBAC?

Prep'VetoAgro est là pour vous accompagner dans votre projet :

- ✓ Prépas annuelles Vétro Terminale
- ✓ Prépas annuelles Vétro Première
- ✓ Stages prépas Vétro Terminale

EN SAVOIR PLUS



Qualiopi
processus certifié

■ ■ RÉPUBLIQUE FRANÇAISE

La certification qualité a été délivrée au titre de la catégorie d'action suivante :
Action de formation

